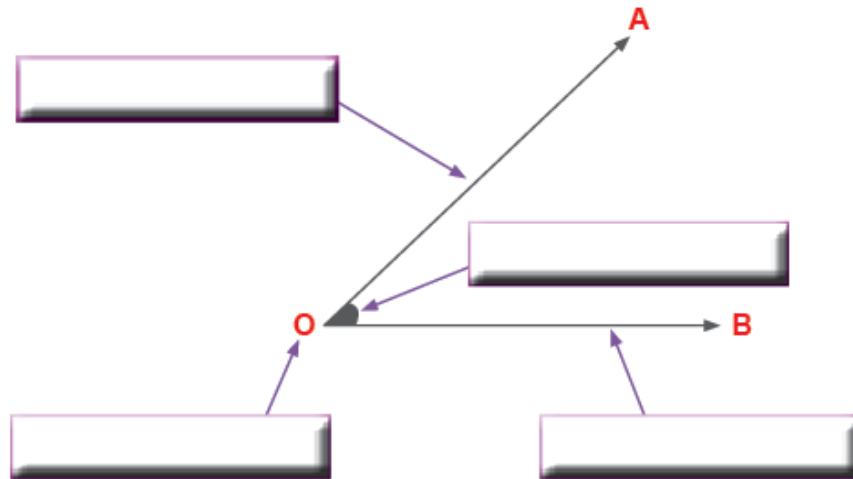




LOS ÁNGULOS

Observa el siguiente dibujo generado por el movimiento de un segmento con un punto fijo. Ahora, completa los espacios:



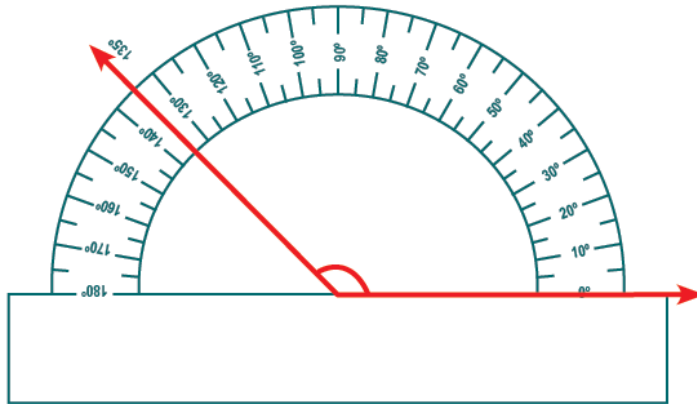
Por lo tanto; el ángulo es:

Clasificación de los ángulos

RECTO	AGUDO	OBTUSO
<p>Mide: _____</p>	<p>Mide: _____</p>	<p>Mide: _____</p>

Identificamos y medimos ángulos

1. Observa la medida de los ángulos, escríbela y luego, completa qué clase es.

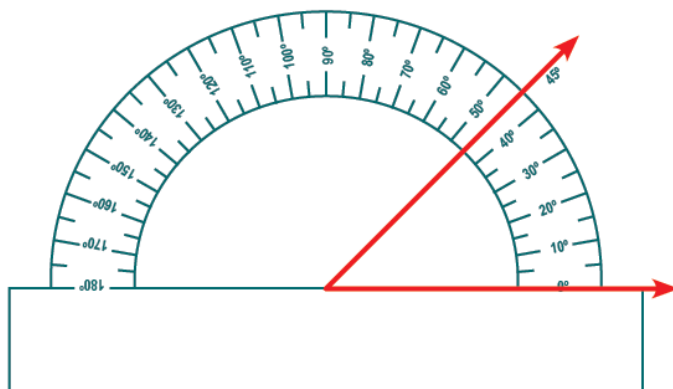
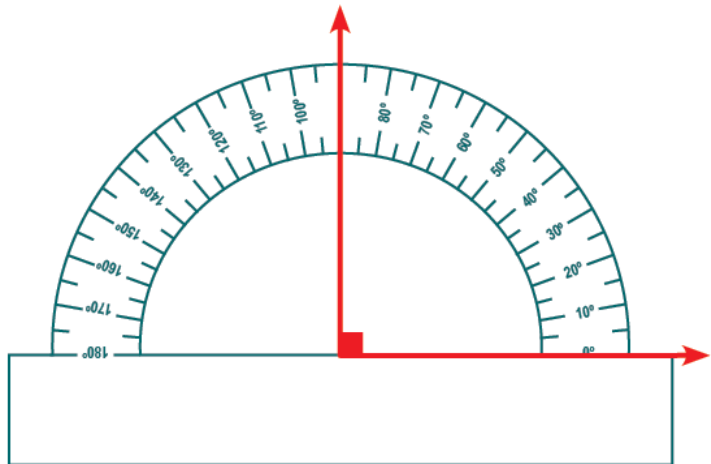


Mide : _____

Ángulo : _____

Mide : _____

Ángulo : _____

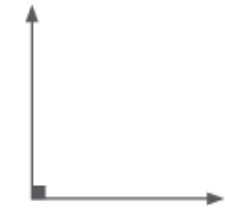


Mide : _____

Ángulo : _____



2. Mide con tu transportador los siguientes ángulos y escribe, ¿a qué clase de ángulo corresponden?



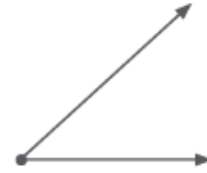
Mide : _____

Ángulo: _____



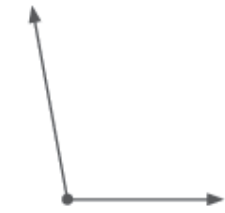
Mide : _____

Ángulo: _____



Mide : _____

Ángulo: _____



Mide : _____

Ángulo: _____



Mide : _____

Ángulo: _____



Mide : _____

Ángulo: _____

3. Traza los ángulos de los grados que se te pide.

Ángulo _____

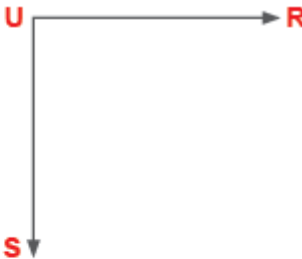
Ángulo _____

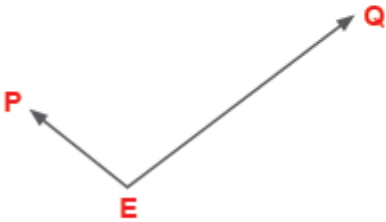
Ángulo _____

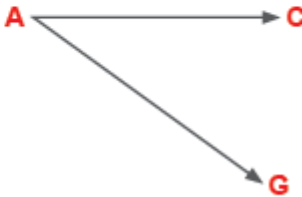
Ángulo _____

4. Halla la medida de los siguientes ángulos e indica qué clase de ángulo es:









Actividades para casa

Traza ángulos de las siguientes medidas: 175º; 35º; 60º; 55º; 20º; 120º.

a)

--

b)

--

c)

--

d)

--

e)

--

f)

--